




Test wiedzy (gry zespołowe)

Powodzenia 😊





1. Boisko o wymiarach 40x20 występuje

w:

A. Piłka nożna

B. Koszykówka

C. Piłka ręczna

D. Siatkówka




2. Drużyna składająca się z 11 zawodników występuje podczas meczu:

- A. Piłka nożna*
- B. Koszykówka*
- C. Piłka ręczna*
- D. Siatkówka*



3. Boisko ma kształt prostokąta o wymiarach 28x15 w:

- A. Piłka nożna*
- B. Koszykówka*
- C. Piłka ręczna*
- D. Siatkówka*



4. (PIŁKA SIATKOWA) Ile odbić mogą wykonać zawodnicy jednej drużyny między sobą przed przekazaniem piłki na drugą stronę boiska ?

A. 2 odbicia

B. 3 odbicia

C. 4 odbicia



5. (PIŁKA SIATKOWA). Do ilu punktów gra się decydujący piąty set tzw. tie-break?

A. Do 25

B. Do 15

C. Do 20

6. (PIŁKA KOSZYKOWA) O czym mówi błąd 3 sekund ?

- A. Zawodnik, którego drużyna jest w posiadaniu piłki, nie może dłużej niż 3 sekundy przebywać w polu 3sek przeciwnika
- B. Rzut do kosza powinien być wykonany w ciągu 3 sek
- C. Jeżeli zawodnik trzymający piłkę przez 3 sek, nie rzuca, nie kładzie popetnia błąd 3 sek



7. Z ilu kwart składa się mecz piłki
koszykowej?

A. 2 kwarty

B. 4 kwarty

C. 3 kwarty



8. Po ilu przewinieniach zawodnik musi opuścić pole gry (boisko) w piłce koszykowej?

A. 6

B. 5

C. 4



9. (PIŁKA KOSZYKOWA). Ile kroków może wykonać zawodnik z piłką - podczas gry w piłkę koszykową?

A. 2 kroki

B. 1 krok

C. 3 kroki



10. (PIŁKA RĘCZNA). Ile kroków może wykonać zawodnik z piłką, podczas gry w piłkę ręczną?

A. 2 kroki

B. 1 krok

C. 3 kroki



11. Ilu zawodników znajduje się na boisku do siatkówki (jedna drużyna)

A. 8

B. 7

C. 6

D. 5



12. Ilu zawodników znajduje się na boisku do piłki ręcznej (jedna drużyna)

A. 8

B. 7

C. 6

D. 5



13. W zagrywce tenisowej w siatkówce
piłkę uderza się:

A. z dołu

B. z boku

C. w górze nad sobą




14. Mecz piłki nożnej trwa:

A. 2 x 30min.

B. 2 x 40min.

C. 2 x 45min.

D. 2 x 60min.



15. Odległość zawodników drużyny przeciwnej od piłki, podczas wykonywania rzutu wolnego w piłce nożnej wynosi:

A. 5m

B. 8,5m

C. 9,15m



16. Gospodarzem Mistrzostw Świata w Piłce Nożnej w 2018 roku była:

A. Francja

B. Rosja

C. Hiszpania



17. Przepis 24s. w koszykówce dotyczy :

A. Próby rzutu do kosza

B. Wprowadzenia piłki do gry z autu

C. Wykonania rzutu osobistego

D. Wyprowadzenia piłki z własnej połowy



18. Jaka będzie decyzja sędziów gdy przy celnym rzucie za 3 pkt. zawodnik rzucający będzie faulowany?

- A. Uznanie kosza i wprowadzenie piłki do gry za linii końcowej
- B. Nie uznanie kosza i przyznanie 3 rzutów osobistych
- C. Uznanie kosza i przyznanie 1 rzutu osobistego
- D. Uznanie kosza i 3 rzuty osobiste

A black arrow points to the right from the left edge of the slide. Several thin, curved lines in shades of blue and grey originate from the left side and sweep across the page.

19. Wilfredo Leon to znany polski:

A. Koszykarz

B. Siatkarz

C. Piłkarz



20. Aktualnym mistrzem Świata w siatkówce (2018) jest:

A. Rosja

B. Brazylia

C. Polska

D. Stany Zjednoczone



Koniec 😊



Punktacja:

- 20 pkt. celujący
- 19-17 pkt. bardzo dobry
- 16-14 pkt. dobry
- 13-10 pkt. dostateczny
- 9-6 pkt. dopuszczający
- 5-0 pkt. niedostateczny